

Gorilla Bokito is overleden

4 april is Bokito doodgegaan. Bokito was de bekendste gorilla van Nederland. Bokito werd 27 jaar geleden geboren in de dierentuin van Berlijn. Daar ontsnapte hij een paar keer uit zijn verblijf. Toen hij 9 jaar was, verhuisde hij naar Blijdorp. Daar ging het 2 jaar later mis. Hij ontsnapte weer uit zijn verblijf in de dierentuin. Daarbij raakten 4 mensen gewond.




Bokito in Blijdorp

Bokito is eigenlijk niet zo oud geworden. Gorilla's in de dierentuin kunnen namelijk veel ouder worden. Soms wel 50 jaar oud. Maar Bokito's hart werkte niet goed. Daarom is hij al jong overleden. Nu zijn alle verzorgers en de andere gorilla's verdrietig.


a Hoeveel jaar heeft Bokito in Blijdorp gewoond?

b Hoeveel jaar geleden ontsnapte hij uit zijn verblijf in de dierentuin in Rotterdam?

c  Hoeveel jaar zou Bokito misschien nog geleefd hebben als zijn hart wel goed gewerkt had?

Gorilla's en andere mensapen

Gorilla's zijn mensapen, net als orang-oetans, bonobo's en chimpansees. De soorten verschillen veel van elkaar. Zo verschillen ze in lengte, in gewicht en in hoe oud ze ongeveer worden. In de tabel hieronder zie je een aantal soorten mensapen. Je ziet de lengte, het gewicht en hoe oud ze kunnen worden.



© Barni1 via Pixabay

Bokito in Blijdorp

soort mensaap	lengte in centimeter	gewicht in kilogram	leeftijd
gorilla	175	180	50 jaar
bonobo	83	60	40 jaar
chimpansee	100	70	50 jaar
orang-oetan	100	80	50 jaar

a De chimpansee is langer dan de bonobo. Hoeveel langer?

b Welke aap is het zwaarst? En welke is het lichtst? Zet de apen op volgorde van gewicht. Begin met de lichtste.

c De kleinste aap is de dwergoeistiti. Deze aap wordt 85 centimeter kleiner dan een orang-oetan. Hoe klein is dat?

Diergaarde Blijdorp

Bokito woonde in Diergaarde Blijdorp. Dat is een grote dierentuin in Rotterdam. De dierentuin is elke dag van het jaar geopend. In de wintertijd is de dierentuin open van 9 uur in de ochtend tot 5 uur in de avond. En in de zomertijd van 9 uur in de ochtend tot 6 uur in de avond. Alleen op 5, 24 en 31 december gaan de hekken al om 4 uur in de middag dicht. En op 1 januari om 5 uur in de middag.



de oude ingang van Blijdorp


Als je naar Diergaarde Blijdorp wilt, kun je thuis alvast een kaartje kopen. Dat is 'online', dus via de website. Je kunt ook een kaartje kopen bij de kassa van de dierentuin.

In het schema hieronder kun je zien hoeveel een kaartje kost.

toegangskartje	normaal	online
volwassene	27 euro	25 euro
kind 3 tot en met 12 jaar	22 euro	20 euro
kind 0 tot en met 2 jaar	gratis	

a Hoeveel uur was Diergaarde Blijdorp gisteren open?

b De familie De Beer gaat naar Diergaarde Blijdorp. Maaïke en Katarina nemen hun zoon van 2 en hun dochter van 5 mee. Ze kopen thuis alvast kaartjes. Vlak voordat ze thuis wegrijden, zegt oma dat ze ook meegaat. Haar kaartje kopen ze bij de kassa van de dierentuin. Hoeveel kosten de kaartjes bij elkaar?

c  Met een jaarabonnement kun je een jaar lang zo vaak naar de dierentuin als je wilt. Voor een volwassene kost dat 90 euro per jaar. Meneer De Leeuw twijfelt of hij een jaarabonnement zal nemen. Hoe kan meneer De Leeuw bedenken en uitrekenen of dat goed is om te doen?

NIEUWSREKENEN

STAPPENPLAN REKENEN

STAP 1

Ik kijk naar de tekst en ik let op:

- de titel
 - het plaatje
 - de getallen
 - de tabel of de grafiek
- Waar zal het over gaan?

Ik lees de tekst en ik let extra op:

- de getallen
 - de rekenwoorden
- Begrijp ik wat ik lees?
- Begrijp ik de tabel of de grafiek?

Ik lees de rekenvraag

- Begrijp ik de vraag?

STAP 2

Ik bedenk hoe ik de rekenvraag oplos

- Weet ik welke informatie ik nodig heb?
- Is een kladblaadje misschien handig? Om het uit te rekenen of te tekenen?

STAP 3

Ik beantwoord de rekenvraag

STAP 4

Ik controleer of mijn antwoord kan kloppen